

全真模拟训练卷

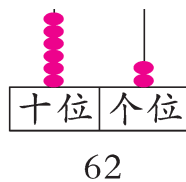
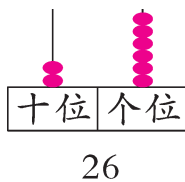
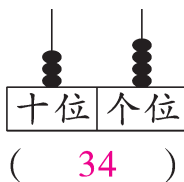
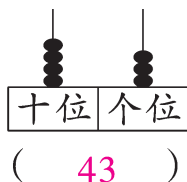


(四)

| 题号 | 一 | 二 | 三 | 四 | 五 | 六 | 七 | 八 | 总分 |
|----|---|---|---|---|---|---|---|---|----|
| 得分 | | | | | | | | | |

一、填一填。(1题4分,其余每空1分,共32分)

1. 写一写,画一画。



2. 找规律填数。

| | | | | | | | |
|----|----|----|----|----|----|----|----|
| 36 | 38 | 40 | 42 | 44 | 46 | 48 | 50 |
|----|----|----|----|----|----|----|----|

| | | | | | | | |
|----|----|----|----|----|----|----|----|
| 81 | 80 | 79 | 78 | 77 | 76 | 75 | 74 |
|----|----|----|----|----|----|----|----|

3. 一个两位数的十位上是4,个位上是6,这个数是(46)。

4. 8个一和5个十合起来是(58)。

5. 85里面有(85)个一。

6. 根据百数表填一填。

| | | |
|----|----|----|
| | 46 | |
| 55 | 56 | 57 |
| | 66 | |

| | | |
|----|----|----|
| 67 | | |
| | 78 | |
| | | 89 |

| | | |
|----|----|--|
| | 23 | |
| 32 | 33 | |
| 42 | | |

7. 在○里填上“>”“<”或“=”。

$$35+3 \bigcirc 38$$

$$38-17 \bigcirc 83-7$$

$$29-20 \bigcirc 29-2$$

$$76-19 \bigcirc 67-19$$

$$78-8 \bigcirc 70$$

$$22+6 \bigcirc 19+6$$

8. 搭 2 个正方形,至少需要(7)根相同的小棒。

二、算一算。(24 分)

1. 填表。

| | | | | | | |
|----|----|----|----|----|----|----|
| 加数 | 4 | 32 | 66 | 21 | 33 | 8 |
| 加数 | 25 | 17 | 19 | 58 | 6 | 61 |
| 和 | 29 | 49 | 85 | 79 | 39 | 69 |

| | | | | | | |
|-----|----|----|----|----|----|----|
| 被减数 | 73 | 39 | 68 | 42 | 81 | 99 |
| 减数 | 48 | 7 | 36 | 40 | 58 | 25 |
| 差 | 25 | 32 | 32 | 2 | 23 | 74 |

2. 用竖式计算。

$$36 - 26 = 10$$

$$\begin{array}{r} 36 \\ - 26 \\ \hline 10 \end{array}$$

$$46 + 33 = 79$$

$$\begin{array}{r} 46 \\ + 33 \\ \hline 79 \end{array}$$

$$4 + 72 = 76$$

$$\begin{array}{r} 4 \\ + 72 \\ \hline 76 \end{array}$$

$$46 - 18 = 28$$

$$\begin{array}{r} 46 \\ - 18 \\ \hline 28 \end{array}$$

$$54 + 17 = 71$$

$$\begin{array}{r} 54 \\ + 17 \\ \hline 71 \end{array}$$

$$70 - 35 = 35$$

$$\begin{array}{r} 70 \\ - 35 \\ \hline 35 \end{array}$$

三、选一选,在合适的答案下面画“○”。(4 分)

1. 小明有 46 张画片,小红的画片比他多得多。小红可能有多少张画片?

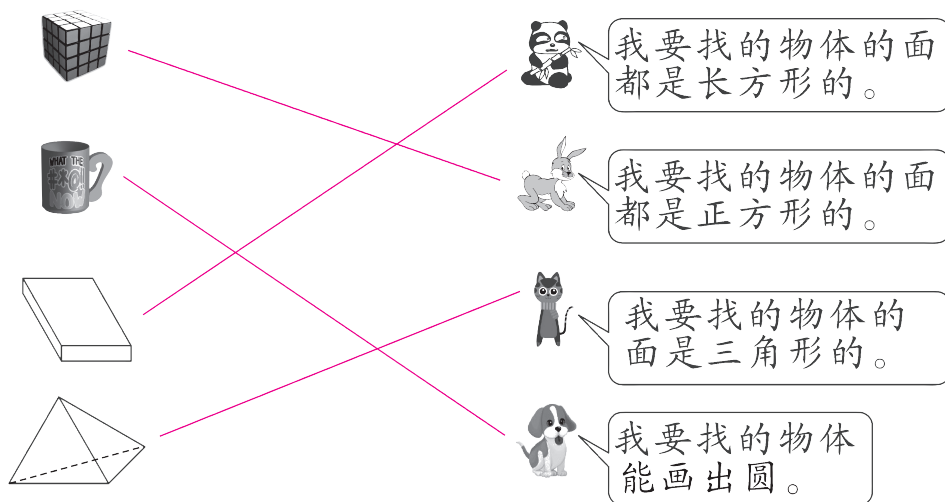
| | | |
|------|------|------|
| 25 张 | 41 张 | 83 张 |
| | | ○ |

2. 一(1)班有 44 人去春游,一(2)班比一(1)班少一些,一(2)班可能去了多少人?


| | | |
|------|------|------|
| 45 人 | 40 人 | 20 人 |
| | ○ | |

四、连一连。(共 6 分)

1. 我要找物体。(4 分)



2. 他们看到的分别是哪幅图?(2 分)



五、判断,对的画“√”,错的画“×”。(6 分)



48个



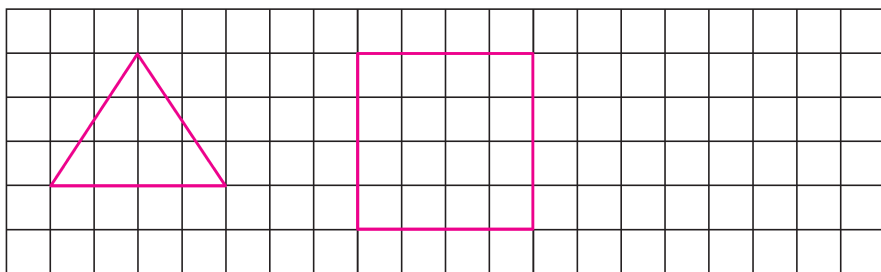
50个



13个

1. 比 多得多。(√)
2. 和 差不多。(×)
3. 比 少得多。(√)
4. 比 多一些。(×)
5. 比 少一些。(×)
6. 比 少一些。(×)

六、在下面的方格图中画一个三角形和一个正方形。(4 分)



(填法不唯一)

七、解决问题。(共 18 分)

1. 树上原来有 38 只鸟,飞走了 12 只,树上还有多少只鸟?(3 分)

$$\boxed{38} \ominus \boxed{12} = \boxed{26} \text{ (只)}$$




2. 小红已经看了一本书的 35 页,还有 14 页没有看,这本书一共有多少页?(3 分)

$$\boxed{35} \oplus \boxed{14} = \boxed{49} \text{ (页)}$$



3. 妈妈买了 28 个苹果和 14 个梨。梨比苹果少多少个?(3 分)



$$\boxed{28} \ominus \boxed{14} = \boxed{14} \text{ (个)}$$



4.

| | | |
|---|---|---|
|  |  |  |
| 23个 | 38个 | 9个 |

 (9 分)

(1)  和  一共有多少个? $\boxed{23} \oplus \boxed{38} = \boxed{61} \text{ (个)}$

(2)  比  多多少个? $\boxed{38} \ominus \boxed{9} = \boxed{29} \text{ (个)}$

(3)  和  一共有多少个? $\boxed{23} \oplus \boxed{9} = \boxed{32} \text{ (个)}$

八、(趣味题)有九张卡片叠在一起,每张卡片上都有一个数。已知这九张卡片上从上到下依次写着 52,53,54,55,56,57,58,59,60,这时正中间那张卡片上写着(56);如果把正中间的这张卡片抽出来放在最上面,其余卡片排列的顺序不变,那么这时正中间的那张卡片上写着(55)。(6 分)